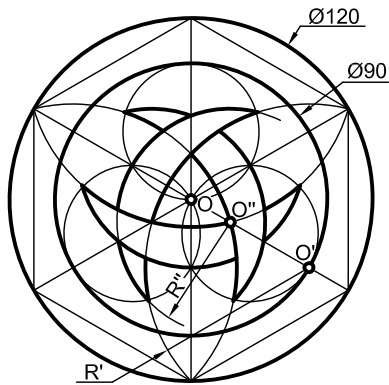
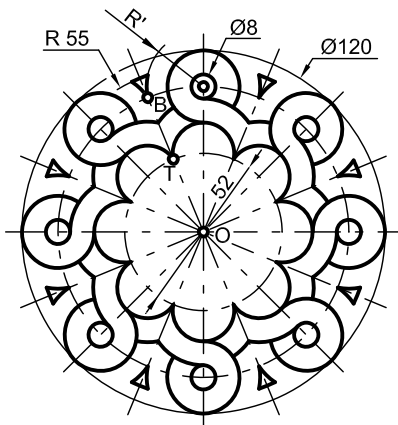


Dibujar el motivo de líneas curvas entrelazadas, que se muestra más abajo, a la escala 1:1.  
Se da la posición del centro O.

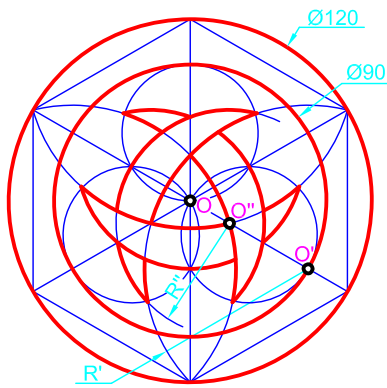


Dibujar el motivo decorativo, mostrado más abajo, a la escala 1:1. Se da la posición del centro O.

El punto T es de tangencia y él B es de corte de los arcos .



Dibujar el motivo de líneas curvas entrelazadas, que se muestra más abajo, a la escala 1:1.  
Se da la posición del centro O.



Dibujar el motivo decorativo, mostrado más abajo, a la escala 1:1. Se da la posición del centro O.

El punto T es de tangencia y él B es de corte de los arcos .

